

Séance 4 : Périmètre et aire d'un triangle

Figure 1

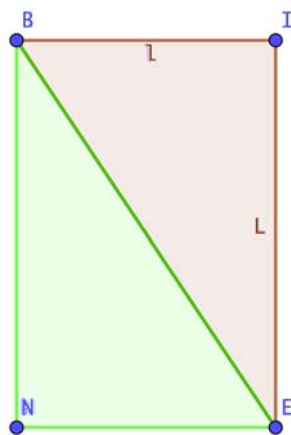


Figure 2

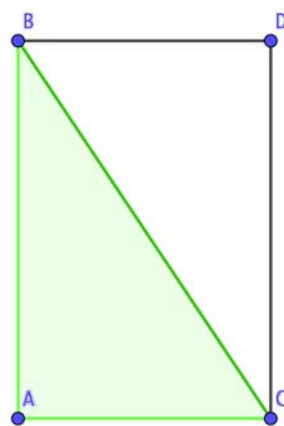
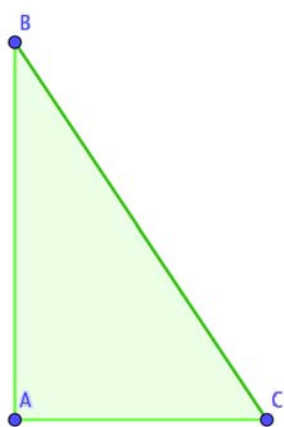
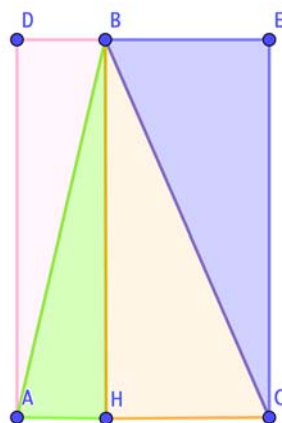
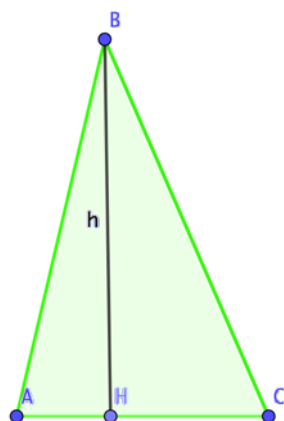


Figure 3



Évaluation — *Durée : 10 minutes*

Prénom :

Nom :

Date :

- Je suis un triangle dont les côtés sont mesurés en cm. Mon aire est mesurée en

cm _____ cm^2 _____ kg _____

- Je suis un triangle dont les côtés mesurent 5 cm, 7 cm et 9 cm. Mon périmètre est
 $P =$ _____

- Je suis un triangle, j'ai deux côtés formant un angle droit qui mesurent 8 cm et 5 cm.

La valeur de mon aire est _____

- Je suis un triangle isocèle ABC; mon côté BC mesure 6cm, mes côtés $AB = AC = 5\text{cm}$, et ma hauteur issue de A mesure 4cm.

Dessine-moi.

J'ai pour périmètre $P =$ _____ et pour aire $A =$ _____.